

Шифр участника Уч. 7-8

**ЗАДАНИЯ ДЛЯ ОБУЧАЮЩИХСЯ**  
**Время выполнения заданий – 60 минут**  
**Максимальное количество баллов – 100 баллов**

**Задание 1. Выберите верный ответ из предложенных вариантов. Правильные ответы внесите в таблицу. Максимальный балл за задание – 10 баллов.**

**1.1. Выберите один верный ответ из предложенных вариантов.**

*(0,5 балла за каждый правильный ответ, максимальный балл за задание 1.1. - 5 баллов).*

**1. В какой город был приглашен княжить Рюрик:**

- а) Киев                                      б) Новгород                                      в) Изборск                                      г) Ладога

**2. К какому веку относится правление Владимира Мономаха:**

- а) XII                                      б) XI                                      в) XIII                                      г) IX

**3. Битва между монголами и русскими в 1380 г. получила название:**

- а) Ледовое побоище                                      в) стояние на Угре  
б) Мамаево побоище                                      г) битва на Калке

**4. Какое событие произошло в 1147 г.?**

- а) Битва на р. Калке                                      в) Невская битва  
б) первое упоминание о Москве                                      г) Ледовое побоище

**5. Какое событие произошло позже других:**

- а) Крещение Руси                                      в) Куликовская битва  
б) Невская битва                                      г) призвание варягов

**6. Первая русская летопись называлась:**

- а) «Повесть временных лет»                                      в) «Слово о полку Игореве»  
б) «Слово о погибели земли русской»                                      г) «Задонщина»

**7. Прозвище Невский князь Александр Ярославович получил за:**

- а) проведение переписи населения в Новгороде                                      в) победу над крестоносцами  
б) поездку к хану Орды за ярлыком                                      г) разгром шведского отряда

**8. Центральным органом управления в Русском государстве XV в. был (и):**

- а) приказы                                      б) наместники                                      в) волостели                                      г) Боярская Дума

**9. В каком году было введено христианство на Руси:**

- а) 886г.                                      б) 882г.                                      в) 988г.                                      г) 980г.

Шифр участника Цет. 7-8

10. К какому веку относится правление Ярослава Мудрого:

- а) XII                      б) XI                      в) XIII                      г) IX

Ответ:

№	1	2	3	4	5	6	7	8	9	10
1.1.	Г	А	Г	А	Б	А	Б	а	В	Б

1.2. Верно ли утверждение? Ответ оформите в виде таблицы (0,5 балла за каждый правильный ответ, максимальный балл - 5 баллов).

1. Конунг Рюрик и его братья согласились на условия славянских вождей, и вскоре Рюрик прибыл в Ладогу и «сел» в ней «владеть», Синеус устроился на западе в Изборске, а Трувор на севере, в Белоозере.

2. Отцом хана Батыея был Чингис-хан.

3. Андрей Рублев был учеником Феофана Грека.

4. При Иване III утверждается главный символ самодержавной России – герб с двуглавым орлом.

5. Иван Калита впервые добился в Орде права собирать дань с русских земель самостоятельно, без баскаков.

6. Церковь Покрова Богородицы на Нерли был построен в память одного из сыновей Андрея Боголюбского.

7. Полюдье - это летняя экспедиция князя по сбору дани.

8. Борис и Глеб были убиты в междоусобной борьбе старшим братом Святополком.

9. Главным событием правления Василия II стало свержение монгольского ига.

10. В середине 1340-х гг. страшная беда надвинулась на Русь – чума, «черная смерть».

Ответ:

№	ВЕРНО	НЕВЕРНО
1.2.	1, 3, 4, 5, 6, 7, 10 - + + + - -	2, 8, 9 + - +

Задание 2. Определите и запишите принцип образования каждого логического ряда, найдите и выпишите лишний элемент в каждом ряду. Объясните, почему данный элемент является лишним. Максимальный балл за задание – 3 балла (0,5 балла за лишнее понятие и 0,5 балла за объяснение)



Шифр участника Ист. 7-8

2.1. Вятичи, поляне, кривичи, балты, радимичи

2.2. Дажьбог, Стрибог, Водан, Перун, Ярило

2.3. Гончарный круг, плуг, каменный топор, ткацкий станок

Ответ:

2.1. Лишнее - Радимичи, потому что названия племен, а  
другие - народы

2.2. Лишнее - Ярило, потому что это божество, а остальные -  
боги


2.3. Лишнее - плуг, потому что это инструмент, а  
остальные - предметы, которые найдены на гончарном  
кругу

Задание 3. Рассмотрите изображенные на рисунках старинные профессии Древней





Руси. Запишите под каждым номером название профессии и дайте её определение

(объясните, чем занимался представитель данной профессии). Максимальный балл за

задание – 16 баллов. За каждый правильный ответ – 1 балл.





2 	6 
3 	7 
4 	8 



Шифр участника Ист. 7-8

Ответ:

№	Профессия (занятие)	Определение
1	Гончар -	изготавливает глиняную посуду -
2	Кушнар -	готовит кушнарные изделия -
3	Кудесник -	обрабатывает полезные ископаемые
4	Лесник -	охотится, следит за лесом
5	Полевод -	человек, выращивает сельское хозяйство - вечные культуры на полях
6	Кудесник -	обрабатывает полезные ископаемые
7	Рыбак -	ловит рыбу -
8	Крестьяне -	живёт -

(28)

**Задание 4. Текст с пропусками. Заполните пробелы в тексте. Ответ оформите в виде перечня элементов под соответствующими номерами. Максимальный балл за задание – 15 баллов. За каждый правильный ответ – 1 балл.**

В лето 6576 \_ (1 - год от Рождества Христова). Пришли иноплеменники на Русскую землю \_ (2 - название этноса/народа) многие. Князь великий киевский \_ (3 - имя) же и братья его и \_ (4 - имя) и младший \_ (5 - имя) вышли против них на реку \_ (6 - название). И с наступлением ночи они пошли друг на друга. За грехи наши напустил Бог на нас поганых, и бежали русские князья... Когда князь киевский с сыном бежали в \_ (7 - город), а брат в \_ (8 - город), люди, участвовавшие в походе, прибежали в город и собрали \_ (9 - термин власти) на торгу, и послав к князю, сказали ему: "Вот, поганые рассыпались по всей земле, дай нам, князь, \_ (10 - вид снаряжения) и коней, мы ещё побьемся с ними". Князь же этого не послушал. И люди пошли в гору и остановились около двора Брючислава и сказали: "Пойдем освободим дружину свою из \_ (11 - место заключения)". И люди закричали, и освободили дружину и сына князя полоцкого \_ (12 - имя). Двор же княжеский разграбили, [захватив] бесчисленное множество золота и серебра... Князь же киевский бежал в \_ (13 - государство) ... В лето 6577 \_ (14 - год от Рождества Христова). Пошел князь киевский со своим родственником, князем \_ (15 - имя) вернуть свой стол...

Шифр участника Ист. 7-8

Ответ:

1	1068 +	9	Вече +
2	Половцы +	10	Оружие +
3	Изяслав +	11	темнищета +
4	Святослав +	12	Всамаве +
5	Всеволод +	13	Польше +
6	Альму +	14	1069
7	Киев +	15	Боляславом +
8	Чернигов +		

**Задание 5. Установите соответствие между деятелями отечественной и всемирной истории и событием, участниками или свидетелями которого они были. Максимальный балл за задание – 5 баллов. За каждый правильный ответ – 1 балл.**

Российская история	Всемирная история
1. Рюрик	А. Нормандское завоевание Англии
2. Ольга	Б. Разделение христианской церкви на Восточную (православную) и Западную (католическую)
3. Ярослав Мудрый	В. Первый крестовый поход
4. Изяслав Ярославич	Г. Распад империи франков
5. Святополк	Д. Образование Священной Римской империи

Ответ:

1	2	3	4	5
Д	В	Б	Г	А

**Задание 6. Внимательно рассмотрите карту и выполните предложенные задания.**

Максимальный балл за задание – 12 баллов.

- 6.1. Назовите государство, территория которого обозначена на схеме цифрой «1» (2 балла).
- 6.2. Укажите название войны, события которой отображены на территории государства, обозначенного на схеме цифрой «2». Укажите годы этой войны (4 балла).
- 6.3. Назовите государство, территория которого обозначена на схеме цифрой «3» (2 балла).



Шифр участника Ист.-7-8

6.4. Назовите национальную героиню государства, обозначенного на схеме цифрой «2», деятельность которой связана с событиями, обозначенными на карте (2 балла).

6.5. Укажите, какой известный процесс происходил в тот же период, когда происходила война, событиям которой посвящена схема, в течение 69 лет на территории области, обозначенной на схеме цифрой «4» (2 балла).

Ответ:

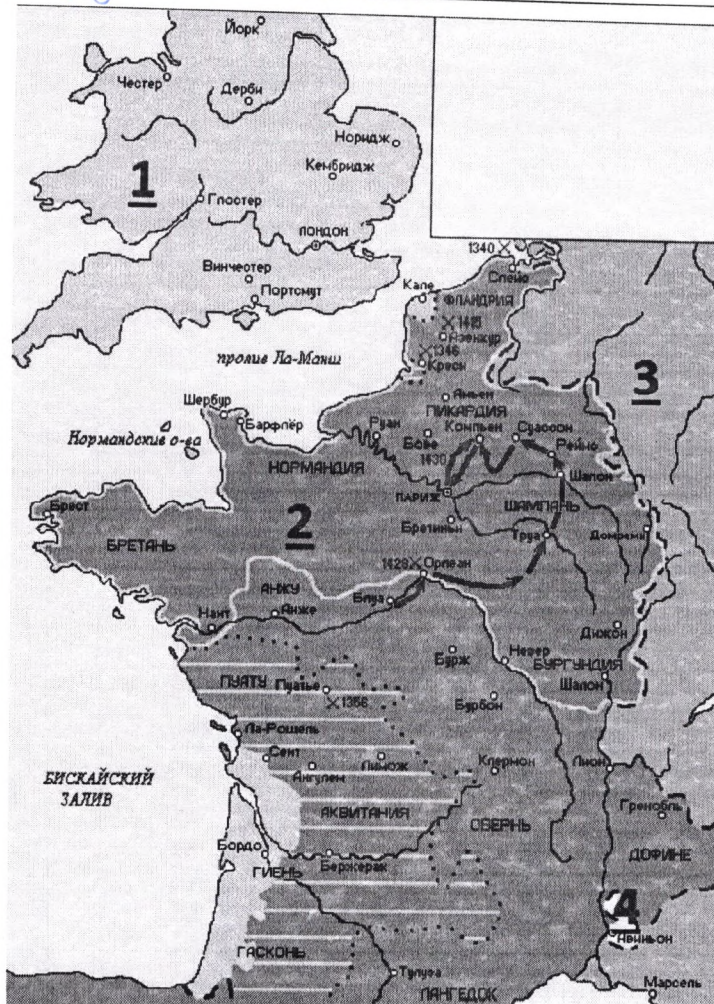
6.1. Великобритания ✓

6.2. Столетняя война ✓

6.3. Германия ✓

6.4. Жанна д'Арк ✓

6.5. Разделение Польши —





Шифр участника Уст-7-8

Задание 7. Рассмотрите схемы представленные ниже принадлежащие к одной исторической эпохе и ответьте на вопросы. Максимальный балл за задание – 12 баллов.

1.

2.

3.



Шифр участника Иср. 7-8

7.1. Определите исторические события, показанные на каждой из представленных схем 1-3 (3 балла).

7.2. Напишите дату каждого из них (3 балла).

7.3. Назовите государство, с войсками которого сражались русские воины в указанных битвах (1 балл).

7.4. Укажите не менее трех участников с русской стороны события, обозначенного на схеме под № 1 (3 балла)

7.5. Перечислите не менее двух литературных произведений, посвященных историческому событию, отраженному на схеме под № 1 (2 балла)

Ответ:

№	1 схема	2 схема	3 схема
7.1.	Битва на Аону +	Завоевание Новгорода	Монголо-татарское иго
7.2.	16 век -	12 век -	13 век -
7.3.	Монгольская империя +		
7.4.	Дмитрий Донской +		
7.5.			


Задание 8. Посмотрите на архитектурные сооружения и укажите: 1) название архитектурных сооружений (1 балл); 2) время их создания (с точностью до половины столетия) (1 балл); 3) имя князя, при котором они были построены (1 балл); 4) место их расположения (1 балл). Максимальный балл за задание – 16 баллов. За каждый правильный ответ – 1 балл.

Ответ:

№	Название	Время создания	Имя князя	Место
1	Никольский собор +	X век	Рюрик -	Великий Новгород
2	Софийский собор +	XI век +	Ярослав Мудрый +	Киев +
3	Кремль в Москве +	XII век	Юрий Долгорукий +	Москва +
4	Монастырь -	IX век	Святослав Ярославич +	Рязань



Шифр участника Ист. 78



**Задание 9.** Используя все приведенные слова и словосочетания, составьте определения исторических понятий. Назовите эти понятия. Слова и словосочетания не могут использоваться дважды. Вы можете добавлять предлоги, изменять слова по падежам и пр. *Максимальный балл за задание – 3 балла. За каждый правильный ответ – 1 балл (в 9.1-9.2. определение+понятие).*

9.1. Глава, управление, Древний, выборный, в, городской, Новгород.

9.2. Высокий, хан, в, ордынский, покоренные, ранг, земли, представитель, чиновник.

9.3. Напишите имя одного из исторических деятелей европейской истории – современника Государя всея Руси Ивана III (1 балл)



Шифр участника Иср. 7-8

Ответ:

9.1. Понятие: Выборная монархия +

Определение: форма правления, при которой правитель избирается

9.2. Понятие: Ордынский хан +

из монгольской  
встает

Определение: Правитель Золотой орды

9.3. Иван III -

70

Задание 10. Посмотрите на изображения и заполните таблицу. Максимальный балл за задание – 8 баллов. За каждый правильный ответ – 1 балл.



1



2

	1 изображение	2 изображение
Кому посвящен памятник?	<u>М.А. Врубель</u> +	<u>Гостовский</u>
Чем знаменит этот человек?	<u>Живописец</u> +	<u>Писатель</u>
Как он связан с историей города Омска?		<u>Судебная ссылка</u>
Какие объекты в городе Омске названы именем этого человека?	<u>Музей</u> +	<u>улица, библиотека, литературный музей</u> +

75